

4 Resolución de triángulos

Página 105

Localización de una emisora clandestina

La emisora se encuentra a 90 m del control A y a 105 m del control B .

Página 106

1 Hazlo tú.

$$\cos \beta = 0,92 \quad \text{tg } \beta = 0,42$$

2 Hazlo tú.

$$\cos \beta = 0,62 \quad \text{sen } \beta = 0,79$$

Página 107

1 $\cos \alpha = -0,78 \quad \text{tg } \alpha = -0,79$

2 $\text{sen } \alpha = -0,56 \quad \text{tg } \alpha = 0,67$

3 $\text{sen } \alpha = -0,68 \quad \cos \alpha = 0,74$

	0°	30°	45°	60°	90°	120°	135°	150°	180°
sen	0	1/2	$\sqrt{2}/2$	$\sqrt{3}/2$	1	$\sqrt{3}/2$	$\sqrt{2}/2$	1/2	0
cos	1	$\sqrt{3}/2$	$\sqrt{2}/2$	1/2	0	-1/2	$-\sqrt{2}/2$	$-\sqrt{3}/2$	-1
tg	0	$\sqrt{3}/3$	1	$\sqrt{3}$	-	$-\sqrt{3}$	-1	$-\sqrt{3}/3$	0

	210°	225°	240°	270°	300°	315°	330°	360°
sen	-1/2	$-\sqrt{2}/2$	$-\sqrt{3}/2$	-1	$-\sqrt{3}/2$	$-\sqrt{2}/2$	-1/2	0
cos	$-\sqrt{3}/2$	$-\sqrt{2}/2$	-1/2	0	1/2	$\sqrt{2}/2$	$\sqrt{3}/2$	1
tg	$\sqrt{3}/3$	1	$\sqrt{3}$	-	$-\sqrt{3}$	-1	$-\sqrt{3}/3$	0

Página 108

1 a) 36° b) 132° c) -75°
 d) -65° e) 52° f) 180°

2 a) $\text{sen } 13290^\circ = -\frac{1}{2}$ b) $\cos(-1680^\circ) = -\frac{1}{2}$

c) $\text{tg } 3825^\circ = 1$ d) $\cos 4995^\circ = \frac{\sqrt{2}}{2}$

e) $\text{sen}(-1710^\circ) = 1$ f) $\text{tg } 3630^\circ = \frac{\sqrt{3}}{3}$

g) $\cos(-36000^\circ) = 1$ h) $\text{sen}(-330^\circ) = \frac{1}{2}$

Página 109

1 Hazlo tú.

$$\cos \beta = -0,493 \quad \text{tg } \beta = -1,765$$

1 a) $\cos \alpha = -0,82 \quad \text{tg } \alpha = -0,699$

b) $\text{sen } \alpha = -0,951 \quad \text{tg } \alpha = -3,078$

c) $\text{sen } \alpha = -0,799 \quad \cos \alpha = -0,602$

d) $\text{sen } \alpha = 0,574 \quad \text{tg } \alpha = -0,7$

Página 111

1 • $\text{sen } 55^\circ = 0,82 \quad \cos 55^\circ = 0,57 \quad \text{tg } 55^\circ = 1,43$

• $\text{sen } 125^\circ = 0,82 \quad \cos 125^\circ = -0,57 \quad \text{tg } 125^\circ = -1,43$

• $\text{sen } 145^\circ = 0,57 \quad \cos 145^\circ = -0,82 \quad \text{tg } 145^\circ = -0,70$

• $\text{sen } 215^\circ = -0,57 \quad \cos 215^\circ = -0,82 \quad \text{tg } 215^\circ = 0,70$

• $\text{sen } 235^\circ = -0,82 \quad \cos 235^\circ = -0,57 \quad \text{tg } 235^\circ = 1,43$

• $\text{sen } 305^\circ = -0,82 \quad \cos 305^\circ = 0,57 \quad \text{tg } 305^\circ = -1,43$

• $\text{sen } 325^\circ = -0,57 \quad \cos 325^\circ = 0,82 \quad \text{tg } 325^\circ = -0,70$

2 • $\text{sen } 358^\circ = -0,0349 \quad \cos 358^\circ = 0,9994$

$\text{tg } 358^\circ = -0,03492$

• $\text{sen } 156^\circ = 0,4067 \quad \cos 156^\circ = -0,9135$

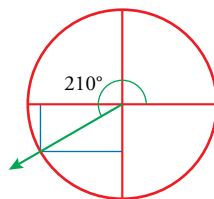
$\text{tg } 156^\circ = -0,4452$

• $\text{sen } 342^\circ = -0,3090 \quad \cos 342^\circ = 0,9511$

$\text{tg } 342^\circ = -0,3249$

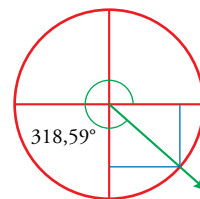
3 a) $\cos 210^\circ \approx -0,86$

$\text{tg } 210^\circ \approx 0,58$



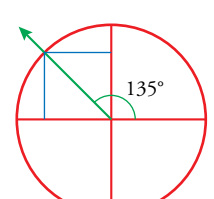
b) $\text{sen } 318,59^\circ \approx -0,66$

$\text{tg } 318,59^\circ \approx -0,88$



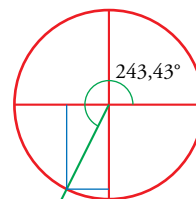
c) $\text{sen } 135^\circ \approx 0,7$

$\cos 135^\circ \approx -0,7$



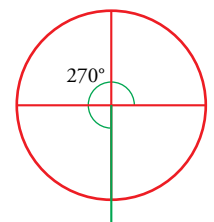
d) $\text{sen } 243,43^\circ \approx 0,9$

$\cos 243,43^\circ \approx -0,45$



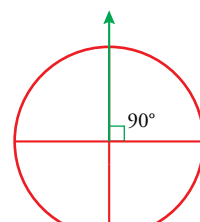
e) $\cos 270^\circ = \cos 90^\circ = 0$

$\text{tg } 270^\circ$ no existe



f) $\text{sen } 90^\circ = 1$

$\text{tg } 90^\circ$ no existe



Página 112

1 Hazlo tú.

$$c = 77,8 \text{ cm} \quad \hat{A} = 37^\circ 9' 52'' \quad \hat{B} = 52^\circ 50' 8''$$

2 Hazlo tú.

$$c = 172,15 \text{ cm} \quad a = 80,82 \text{ cm} \quad \hat{A} = 28^\circ$$

3 Hazlo tú.

$$b = 66,28 \text{ cm}$$

Página 113

1 a) $a = 17,43 \text{ cm}$ b) $b = 26,84 \text{ cm}$

c) $c = 396,69 \text{ m}$; $\hat{A} = 39^\circ 3' 57''$

d) $b = 56,01 \text{ cm}$ e) $c = 66,05 \text{ cm}$

2 Mide 5,87 m.

3 El área es 14 122,80 m².

Página 115

1 $c = 154,18 \text{ m}$

2 $\overline{MP} = 60,49 \text{ m}$

3 $b = 26,35 \text{ cm}$

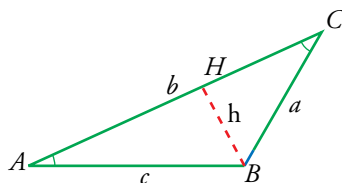
4 La altura es 125,97 m. La primera distancia es 139,90 m, y ahora, después de alejarnos 40 m, estamos a 179,90 m.

Página 116

1 a) Verdadero b) Verdadero

2 Lo demostramos para \hat{C} ángulo agudo. (Si fuese un ángulo obtuso razonaríamos como en el ejercicio anterior).

Trazamos la altura h desde el vértice B . Así, los triángulos obtenidos AHB y CHB son rectángulos.

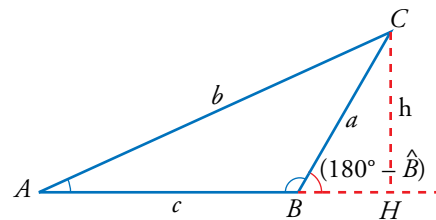


$$\text{sen } \hat{A} = \frac{h}{c} \rightarrow h = c \text{ sen } \hat{A}$$

$$\text{sen } \hat{C} = \frac{h}{a} \rightarrow h = a \text{ sen } \hat{C}$$

$$c \text{ sen } \hat{A} = a \text{ sen } \hat{C} \rightarrow \frac{a}{\text{sen } \hat{A}} = \frac{c}{\text{sen } \hat{C}}$$

3



$$\text{sen } \hat{A} = \frac{h}{b} \rightarrow h = b \text{ sen } \hat{A}$$

$$\text{sen } \hat{B} = \text{sen } (180^\circ - \hat{B}) = \frac{h}{a} \rightarrow h = a \text{ sen } \hat{B}$$

$$b \text{ sen } \hat{A} = a \text{ sen } \hat{B} \rightarrow \frac{a}{\text{sen } \hat{A}} = \frac{b}{\text{sen } \hat{B}}$$

Página 117

1 Hazlo tú.

$$b = 100,66 \text{ m} \quad c = 118,44 \text{ m}$$

2 Hazlo tú.

$$\hat{A}_1 = 48^\circ 35' 25'' \quad \hat{A}_2 = 131^\circ 24' 35''$$

4 a) Falso b) Falso

5 a) No tiene solución.

b) $\hat{A} = 90^\circ$

c) $\hat{A}_1 = 41^\circ 48' 37,1''$

$\hat{A}_2 = 138^\circ 11' 22,9''$

d) $\hat{A} = 30^\circ$

6 $b = 40,76 \text{ cm}$ $c = 18,2 \text{ cm}$

Página 118

7 a) Verdadero b) Verdadero

Página 119

1 Hazlo tú.

$$c = 17,24 \text{ m}$$

8 a) $\hat{A} = 48^\circ 30' 33''$ $\hat{B} = 92^\circ 51' 57,5''$ $\hat{C} = 38^\circ 37' 29,5''$

b) $c = 17,24 \text{ cm}$ $\hat{A} = 15^\circ 7' 44,3''$ $\hat{B} = 124^\circ 52' 15,7''$

c) $a = 5,59 \text{ cm}$ $\hat{B} = 43^\circ 43' 25,3''$ $\hat{C} = 31^\circ 16' 34,7''$

d) $\hat{A} = 75^\circ$ $b = 2,93 \text{ m}$ $c = 3,59 \text{ m}$

e) $\hat{B} = 110^\circ$ $a = 3,05 \text{ m}$ $c = 3,05 \text{ m}$

f) $\hat{A} = \hat{B} = 70^\circ$ $c = 6,84 \text{ cm}$

g) $\hat{C} = 60^\circ$ $b = 3,66 \text{ cm}$ $c = 4,48 \text{ m}$

h) $\hat{B} = 60^\circ$ $c = 8 \text{ cm}$ $b = 13,86 \text{ cm}$

9 $a = 36,4 \text{ km}$ $c = 40,4 \text{ km}$

Página 120

1 Hazlo tú.

$$\operatorname{sen} \alpha = -\frac{\sqrt{7}}{4}; \quad \operatorname{tg} \alpha = \frac{\sqrt{7}}{3}; \quad \cos(90^\circ - \alpha) = -\frac{\sqrt{7}}{4}$$

$$\operatorname{sen}(180^\circ + \alpha) = \frac{\sqrt{7}}{4}; \quad \operatorname{tg}(180^\circ - \alpha) = -\frac{\sqrt{7}}{3};$$

$$\operatorname{sen}(360^\circ - \alpha) = \frac{\sqrt{7}}{4}$$

2 Hazlo tú.

El área del cuadrilátero es 961,14 m².

3 Hazlo tú.

$$h = 13,11 \text{ m}$$

4 Hazlo tú.

$$\hat{B} = 40^\circ 32' 30'' \quad \hat{C} = 29^\circ 27' 30'' \quad c = 6,28 \text{ cm}$$

Página 122

5 Hazlo tú.

$$\hat{C} = 127^\circ 13' 28'' \quad \hat{B} = 34^\circ 27' 21'' \quad \hat{A} = 18^\circ 19' 11''$$

6 Hazlo tú.

$$\overline{MN} = 80,73 \text{ m}$$

Página 123

$$1 \quad \overline{AB} = 110 \text{ m} \quad \widehat{PAB} = 75^\circ 46' 22'' \quad \widehat{PBA} = 36^\circ 13' 38''$$

$$2 \quad \alpha = 35^\circ 15' 52''$$

$$3 \quad \overline{AB} = 11,5 \text{ m}$$

$$4 \quad \text{Perímetro} = 52,68 \text{ cm} \quad \text{Área} = 156,02 \text{ cm}^2$$

$$5 \quad a) \quad \overline{OP} = 50,8 \text{ cm} \quad b) \quad \overline{TT'} = 26,9 \text{ cm}$$

Página 124

$$1 \quad a) \quad \operatorname{sen} \alpha = \pm \frac{2}{3} \quad \operatorname{tg} \alpha = \pm \frac{2\sqrt{5}}{5}$$

$$b) \quad \cos \beta = \pm \frac{4}{5} \quad \operatorname{tg} \beta = \pm \frac{3}{4}$$

$$c) \quad \cos \gamma = \pm \frac{\sqrt{10}}{10} \quad \operatorname{sen} \gamma = \pm \frac{3\sqrt{10}}{10}$$

2

	$\operatorname{sen} \alpha$	$\cos \alpha$	$\operatorname{tg} \alpha$
$0^\circ < \alpha < 90^\circ$	0,3	0,95	0,31
$90^\circ < \alpha < 180^\circ$	0,8	-0,6	-4/3
$180^\circ < \alpha < 270^\circ$	$-2\sqrt{5}/5$	$-\sqrt{5}/5$	2
$270^\circ < \alpha < 360^\circ$	$-\sqrt{30}/6$	$\sqrt{6}/6$	$-\sqrt{5}$

$$3 \quad a) \quad \cos \alpha = -\frac{\sqrt{5}}{3}$$

$$\operatorname{tg} \alpha = \frac{2\sqrt{5}}{5}$$

$$b) \quad \operatorname{sen} \alpha = -\frac{\sqrt{11}}{6}$$

$$\operatorname{tg} \alpha = -\frac{\sqrt{11}}{5}$$

$$c) \quad \cos \alpha = -0,4061$$

$$\operatorname{sen} \alpha = -0,9137$$

$$d) \quad \operatorname{sen} \alpha = -\frac{\sqrt{11}}{4}$$

$$\operatorname{tg} \alpha = \frac{\sqrt{55}}{5}$$

$$4 \quad a) \quad \cos(180^\circ + \alpha) = -0,8$$

$$b) \quad \operatorname{sen}(180^\circ - \alpha) = 0,6$$

$$c) \quad \operatorname{tg}(-\alpha) = -\frac{3}{4}$$

$$d) \quad \operatorname{sen}(90^\circ - \alpha) = 0,8$$

$$e) \quad \cos(90^\circ + \alpha) = -0,6$$

$$f) \quad \operatorname{tg}(90^\circ - \alpha) = \frac{3}{4}$$

$$5 \quad a) \quad \cos 48^\circ = 0,67$$

$$b) \quad \operatorname{sen}(-48^\circ) = -0,74$$

$$c) \quad \operatorname{sen} 138^\circ = 0,67$$

$$d) \quad \operatorname{tg} 318^\circ = -0,9$$

$$e) \quad \cos 222^\circ = -0,74$$

$$f) \quad \operatorname{tg} 858^\circ = -0,9$$

$$6 \quad a) \quad \operatorname{sen} 135^\circ = \cos 45^\circ = \frac{\sqrt{2}}{2}$$

$$b) \quad \cos 240^\circ = -\cos 60^\circ = -\frac{1}{2}$$

$$c) \quad \operatorname{tg} 120^\circ = -\operatorname{tg} 60^\circ = -\sqrt{3}$$

$$d) \quad \cos 1845^\circ = \cos 45^\circ = \frac{\sqrt{2}}{2}$$

$$e) \quad \operatorname{tg} 1125^\circ = \operatorname{tg} 45^\circ = 1$$

$$f) \quad \operatorname{sen}(-120^\circ) = -\operatorname{sen} 60^\circ = -\frac{\sqrt{3}}{2}$$

$$7 \quad a) \quad \alpha = 228^\circ 35' 25''$$

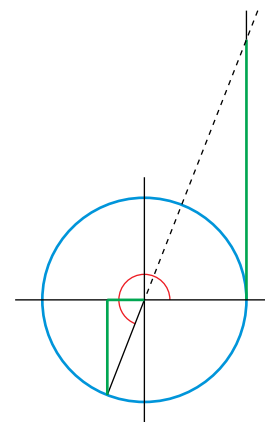
$$b) \quad \alpha = 248^\circ 17' 3,7''$$

$$c) \quad \alpha = 234^\circ 4' 17,4''$$

$$d) \quad \alpha = 283^\circ 17' 49,6''$$

$$8 \quad a) \quad \operatorname{sen} \alpha = -\frac{\sqrt{55}}{8}$$

$$\operatorname{tg} \alpha = \frac{\sqrt{55}}{3}$$



$$b) \quad \operatorname{tg}(180^\circ - \alpha) = -\frac{\sqrt{55}}{3}$$

$$\cos(90^\circ - \alpha) = -\frac{\sqrt{55}}{8}$$

$$\operatorname{sen}(180^\circ + \alpha) = \frac{\sqrt{55}}{8}$$

$$\operatorname{sen}(-\alpha) = \frac{\sqrt{55}}{8}$$

$$\operatorname{tg}(90^\circ + \alpha) = -\frac{3\sqrt{55}}{55}$$

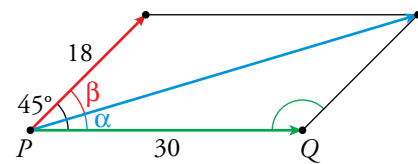
$$\cos(360^\circ - \alpha) = -\frac{3}{8}$$

- 9** Longitud de la escalera = 3,46 m
Distancia desde la base a la pared = 1,73 m
- 10** $64^\circ 28' 27''$
- 11** Altura del poste = 9,19 m
Distancia de la base al punto de sujeción = 7,71 m
- 12** $S_{\text{TRIÁNGULO}} = 68,7 \text{ m}^2$
 $P = 39,24 \text{ m}$
- 13** a) $h = 12,04 \text{ cm}$ b) $h = 8,55 \text{ cm}$
- 14** a) Proyección = 18,79 cm
b) Proyección = 14,14 cm
c) Proyección = 3,47 cm
- 15** $S = 130,56 \text{ cm}^2$
- 16** $\overline{AB} = 9,46 \text{ m}$
- 17** Radio = 5,13 cm
- 18** $\hat{C} = 53^\circ 7' 48''$; $\hat{B} = 36^\circ 52' 12''$; $\overline{BC} = 25 \text{ m}$
- 19** $\hat{A} = \hat{B} = 73^\circ 23' 54''$; $\hat{C} = \hat{D} = 106^\circ 36' 6''$
 $S_{ABCD} = 295,24 \text{ m}^2$

Página 125

- 20** a) $\hat{C} = 85^\circ$; $a = 12,33 \text{ cm}$; $b = 9,68 \text{ cm}$
b) $\hat{C} = 36^\circ 52' 12''$; $\hat{B} = 93^\circ 7' 48''$; $b = 30 \text{ cm}$
c) $\hat{B} = 103^\circ$; $a = 10 \text{ m}$; $c = 11,67 \text{ m}$
d) $\hat{A} = 35^\circ 25' 9''$; $\hat{C} = 39^\circ 34' 51''$; $c = 19,79 \text{ m}$
- 21** $a = 20,42 \text{ m}$
- 22** $\hat{A} = 15^\circ 34' 41''$; $\hat{B} = 43^\circ 7' 28''$; $\hat{C} = 121^\circ 17' 51''$
- 23** a) $c = 21,9 \text{ cm}$; $\hat{A} = 29^\circ 56' 8''$; $\hat{B} = 110^\circ 3' 52''$
b) $b = 79,87 \text{ cm}$; $\hat{C} = 40^\circ 18' 5''$; $\hat{A} = 74^\circ 41' 55''$
c) $\hat{A} = 30^\circ 10' 29''$; $\hat{B} = 17^\circ 48' 56''$; $\hat{C} = 133^\circ 0' 35''$
- 24** a) $\hat{A} = 70^\circ$; $b = 77,83 \text{ m}$; $c = 94,82 \text{ m}$
b) $\hat{B} = 75^\circ$; $a = 16,54 \text{ m}$; $c = 10,09 \text{ m}$
c) $c = 75,3 \text{ m}$; $\hat{A} = 62^\circ 43' 49,4''$; $\hat{B} = 44^\circ 16' 10,6''$
d) $b = 281,6 \text{ m}$; $\hat{A} = 22^\circ 1' 54,45''$; $\hat{C} = 37^\circ 58' 55,5''$
e) $\hat{A} = 38^\circ 37' 29,4''$; $\hat{B} = 48^\circ 30' 33''$; $\hat{C} = 92^\circ 51' 57,6''$
f) $\hat{A} = 32^\circ 39' 34,4''$; $\hat{B} = 93^\circ 17' 46,7''$; $\hat{C} = 54^\circ 2' 38,9''$
g) $\hat{B} = 27^\circ 21' 46,8''$; $\hat{C} = 22^\circ 38' 13,2''$; $c = 7,54 \text{ m}$
h) $\hat{B} = 38^\circ 58' 35,7''$; $\hat{A} = 84^\circ 1' 24,3''$; $a = 9,5 \text{ m}$

- 25** El buzo tiene que recorrer 145,55 m.
- 26** La distancia más corta es de 0,866 km.
- 27** $h = 39,64 \text{ m}$
- 28** $h = 7,32 \text{ m}$
- 29** Después de una hora, la distancia que los separa es 5,423 millas náuticas.
- 30** El área es 9 397,6 m^2 .
- 31** Intensidad de la resultante = 44,58 N



$$\alpha = 16^\circ 35' 19''$$

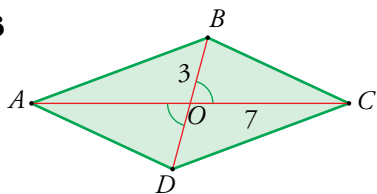
$$\beta = 28^\circ 24' 41''$$

- 32** La velocidad del avión es 206,37 m/s.
- 33** La anchura de la calle es de 125,86 m.
La altura del edificio más bajo es 77,33 m.
- 34** Distancia entre los centros = 11,7 cm
- 35** $\alpha = 112^\circ 53' 10''$
- 36** El área del octógono es 283,12 cm^2 .
- 37** $S_{\text{HEXÁGONO}} = 585 \text{ cm}^2$
- 38** Área = 131,05 cm^2
Perímetro = 43,71 cm
- 39** $\overline{MN} = 5,6 \text{ cm}$

Página 126

- 40** $\overline{DB} = 3,61 \text{ cm}$ $\overline{AD} = 0,83 \text{ cm}$
- 41** $\hat{C} = 56^\circ 19' 31''$; $\hat{B} = 51^\circ 40' 29''$; $\overline{AC} = 263,96 \text{ m}$
- 42** La anchura del río es de 72,17 m.
- 43** $\alpha = 60^\circ$
- 44** $\overline{AD} = 14,67 \text{ cm}$; $S_{ABCD} = 90,37 \text{ cm}^2$; $\overline{CD} = 6,55 \text{ cm}$
 $\overline{BD} = 13,87 \text{ cm}$
- 45** $\hat{B} = 100^\circ 7' 26''$; $\overline{AC} = 4,78 \text{ cm}$

46



$$\begin{aligned} \overline{BC} &= \overline{AD} = 6,87 \text{ cm} \\ \overline{AB} &= \overline{DC} = 8,3 \text{ cm} \\ \widehat{B} &= \widehat{D} = 134^\circ 21' 10'' \\ \widehat{A} &= \widehat{C} = 45^\circ 38' 50'' \end{aligned}$$

47 La distancia es de 37,39 m.

48 a) No tiene solución.

b) $\widehat{A} = 23^\circ 8' 29''$; $\widehat{C} = 32^\circ 17' 31''$; $c = 17,13 \text{ m}$

c) Hay dos soluciones posibles:

• Si $\widehat{B} = 40^\circ 55' 11''$:

$\widehat{C} = 111^\circ 0' 49''$ $c = 163,89 \text{ m}$

• Si $\widehat{B} = 139^\circ 4' 49''$:

$\widehat{C} = 12^\circ 51' 11''$ $c = 39,06 \text{ m}$

49 a) $\cos \alpha = -\sqrt{1-m^2}$

b) $\operatorname{tg} \alpha = -\frac{m}{\sqrt{1-m^2}}$

c) $\cos(180^\circ - \alpha) = \sqrt{1-m^2}$ d) $\operatorname{tg}(-\alpha) = \frac{m}{\sqrt{1-m^2}}$

50 a) $\frac{b^2 - c^2}{b^2 + c^2} = \frac{b^2 - c^2}{a^2} = \frac{b^2}{a^2} - \frac{c^2}{a^2} = \left(\frac{b}{c}\right)^2 - \left(\frac{a}{c}\right)^2 =$
 $= \cos^2 \widehat{C} + \sin^2 \widehat{C}$

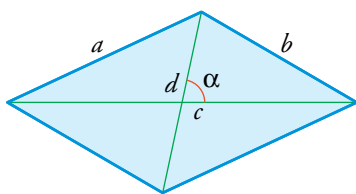
b) $\operatorname{sen} \widehat{B} - \cos \widehat{C} = \frac{b}{a} - \frac{b}{a} = 0$

c) $\operatorname{tg} \widehat{B} \cdot \operatorname{tg} \widehat{C} = \frac{b}{c} \cdot \frac{c}{b} = 1$

51 $\alpha = 180^\circ$ $\alpha = 60^\circ$

$\alpha = 300^\circ$

52 Utilizamos el hecho de que las diagonales de un paralelogramo se cortan en el punto medio, y el teorema del coseno.

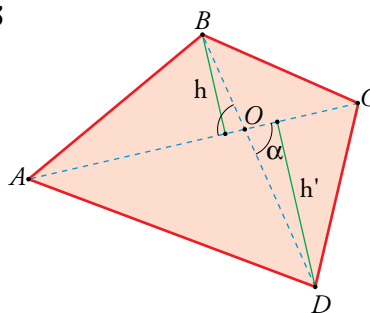


$$\left. \begin{aligned} b^2 &= \left(\frac{c}{2}\right)^2 + \left(\frac{d}{2}\right)^2 - 2 \cdot \frac{c}{2} \cdot \frac{d}{2} \cos \alpha \\ a^2 &= \left(\frac{c}{2}\right)^2 + \left(\frac{d}{2}\right)^2 - 2 \cdot \frac{c}{2} \cdot \frac{d}{2} \cos(180^\circ - \alpha) \end{aligned} \right\} \rightarrow$$

$$\rightarrow \begin{cases} b^2 = \frac{c^2}{4} + \frac{d^2}{4} - \frac{cd}{2} \cos \alpha \\ a^2 = \frac{c^2}{4} + \frac{d^2}{4} - \frac{cd}{2} (-\cos \alpha) \end{cases}$$

Sumando miembro a miembro ambas ecuaciones, obtenemos que $b^2 + a^2 = \frac{c^2}{2} + \frac{d^2}{2}$, de donde se obtiene la relación $c^2 + d^2 = 2(a^2 + b^2)$.

53



Descomponemos el área del cuadrilátero como la suma de las áreas de los triángulos ABC y CDA. Ambos tienen en común la base AC.

$$\begin{aligned} h &= \overline{OB} \cdot \operatorname{sen} \alpha & h' &= \overline{OD} \cdot \operatorname{sen} \alpha \\ S_{ABCD} &= S_{ABC} + S_{ACD} = \frac{\overline{AC} \cdot h}{2} + \frac{\overline{AC} \cdot h'}{2} = \\ &= \frac{\overline{AC} \cdot \overline{OB} \cdot \operatorname{sen} \alpha}{2} + \frac{\overline{AC} \cdot \overline{OD} \cdot \operatorname{sen} \alpha}{2} = \\ &= \frac{1}{2} \overline{AC} (\overline{OB} + \overline{OD}) \cdot \operatorname{sen} \alpha = \frac{1}{2} \end{aligned}$$

54 Las dos primeras igualdades forman el enunciado del teorema de los senos.

Por otra parte, los ángulos \widehat{A} y \widehat{B}' son iguales porque abarcan el mismo arco BC. Por tanto, aplicando el teorema de los senos al triángulo BB'C (ya que $\widehat{C} = 90^\circ$ porque abarca un arco de 180°):

$$\frac{a}{\operatorname{sen} \widehat{A}} = \frac{a}{\operatorname{sen} \widehat{B}'} = \frac{\overline{BB'}}{\operatorname{sen} \widehat{C}} = \frac{2R}{1} = 2R$$

Página 127

55 $h = \frac{25}{2} \sqrt{\frac{3}{2}} \approx 15,31 \text{ m}$

56 $\widehat{C} = 30^\circ$ $\widehat{B} = 90^\circ$

57 $\overline{BM} = \sqrt{25,5} = 5,05 \text{ cm}$

58 La longitud es 9,94 cm.

59 $\overline{DC} = 2a\sqrt{2}$

60 $\alpha = 69^\circ 38' 9''$

61 $\alpha = 70^\circ 31' 44''$

62 $\overline{PA} = 220,87 \text{ m}$ $\overline{PB} = 254,12 \text{ m}$

$$\left. \begin{aligned} \frac{\overline{AP}}{\operatorname{sen} \widehat{B}} &= \frac{\overline{BP}}{\operatorname{sen} \frac{\widehat{A}}{2}} \rightarrow \overline{AP} \cdot \operatorname{sen} \frac{\widehat{A}}{2} = \overline{BP} \cdot \operatorname{sen} \widehat{B} \\ \frac{\overline{AP}}{\operatorname{sen} \widehat{C}} &= \frac{\overline{PC}}{\operatorname{sen} \frac{\widehat{A}}{2}} \rightarrow \overline{AP} \cdot \operatorname{sen} \frac{\widehat{A}}{2} = \overline{PC} \cdot \operatorname{sen} \widehat{C} \end{aligned} \right\} \rightarrow$$

$$\rightarrow \overline{BP} \cdot \operatorname{sen} \widehat{B} = \overline{PC} \cdot \operatorname{sen} \widehat{C}$$

Por otro lado:

$$\frac{\overline{AB}}{\widehat{\text{sen } C}} = \frac{\overline{AC}}{\widehat{\text{sen } B}} \rightarrow \widehat{\text{sen } B} = \frac{\overline{AC}}{\overline{AB}} \cdot \widehat{\text{sen } C}$$

Sustituyendo $\widehat{\text{sen } B}$ en la primera relación, se obtiene:

$$\overline{BP} \cdot \frac{\overline{AC}}{\overline{AB}} \cdot \widehat{\text{sen } C} = \overline{PC} \cdot \widehat{\text{sen } C} \rightarrow$$

$$\rightarrow \overline{BP} \cdot \overline{AC} = \overline{PC} \cdot \overline{AB} \rightarrow \frac{\overline{AC}}{\overline{PC}} = \frac{\overline{AB}}{\overline{BP}}$$

Autoevaluación

1 Si representamos con la letra h a la altura sobre el lado desigual, b :

$$h = 5,52 \text{ cm} \quad b = 8,62 \text{ cm}$$

2 $\widehat{B} = 36^\circ 52' 12''$; $\widehat{C} = 53^\circ 7' 48''$; $b = 7,5 \text{ cm}$; $a = 12,5 \text{ cm}$

3 $\widehat{\text{sen } 154^\circ} = \widehat{\text{sen } 26^\circ}$ $\widehat{\text{cos } 154^\circ} = -\widehat{\text{cos } 26^\circ}$ $\widehat{\text{tg } 154^\circ} = -\widehat{\text{tg } 26^\circ}$

$\widehat{\text{sen } 207^\circ} = -\widehat{\text{sen } 27^\circ}$ $\widehat{\text{cos } 207^\circ} = -\widehat{\text{cos } 27^\circ}$ $\widehat{\text{tg } 207^\circ} = \widehat{\text{tg } 27^\circ}$

$\widehat{\text{sen } 318^\circ} = -\widehat{\text{sen } 42^\circ}$ $\widehat{\text{cos } 318^\circ} = \widehat{\text{cos } 42^\circ}$ $\widehat{\text{tg } 318^\circ} = -\widehat{\text{tg } 42^\circ}$

$\widehat{\text{sen } 2456^\circ} = -\widehat{\text{sen } 64^\circ}$ $\widehat{\text{cos } 2456^\circ} = \widehat{\text{cos } 64^\circ}$ $\widehat{\text{tg } 2456^\circ} = -\widehat{\text{tg } 64^\circ}$

4 a) $\widehat{\text{cos } \alpha} = -\frac{3}{5}$

b) $\widehat{\text{tg } \alpha} = -\frac{4}{3}$

c) $\widehat{\text{sen } (180^\circ + \alpha)} = -\frac{4}{5}$

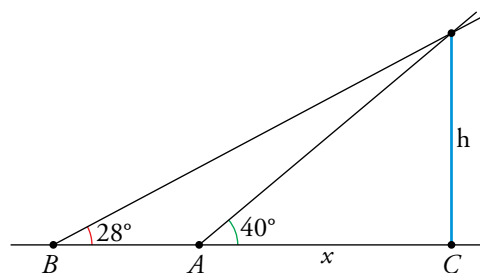
d) $\widehat{\text{cos } (90^\circ + \alpha)} = -\frac{4}{5}$

e) $\widehat{\text{tg } (180^\circ - \alpha)} = \frac{4}{3}$

f) $\widehat{\text{sen } (90^\circ + \alpha)} = -\frac{3}{5}$

5 $\alpha = 105^\circ 56' 43''$ $\widehat{\text{sen } \alpha} = 0,9615$ $\widehat{\text{cos } \alpha} = -0,2747$

6



$$x = 51,89 \text{ m}$$

$$h = 43,54 \text{ m}$$

7 a) $b = 24,72 \text{ cm}$

$$\widehat{A} = 97^\circ 9'$$

$$\widehat{C} = 34^\circ 51'$$

$$\text{Área} = \frac{1}{2} \cdot a \cdot c \cdot \widehat{\text{sen } B} = 232,98 \text{ cm}^2$$

b) Hay dos soluciones:

$$\widehat{A}_1 = 42^\circ 59' 9''$$

$$\widehat{C}_1 = 107^\circ 0' 51''$$

$$c_1 = 21,04 \text{ cm}; \text{Área} = \frac{1}{2} \cdot a \cdot c \cdot \widehat{\text{sen } B} = 78,9 \text{ cm}^2$$

$$\widehat{A}_2 = 137^\circ 0' 51''$$

$$\widehat{C}_2 = 12^\circ 59' 9''$$

$$c_2 = 4,94 \text{ cm}; \text{Área} = \frac{1}{2} \cdot a \cdot c \cdot \widehat{\text{sen } B} = 18,53 \text{ cm}^2$$

8 $d = 45,36 \text{ cm}$ es la medida de la diagonal.

9 $\overline{BC} = 8,28 \text{ m}$